



SES



CHAPITRE 5



TESTEZ VOS CONNAISSANCES !



1 QCM (une ou plusieurs réponses possibles)

1. Le pouvoir exécutif en France est détenu ...
 - a. Par le président de la République seul
 - b. Par le président de la République et l'Assemblée nationale
 - c. Par le président de la République et le Premier ministre
2. Le pouvoir législatif en France est détenu ...
 - a. Par le Premier ministre et le gouvernement
 - b. Par l'Assemblée nationale et le Sénat
 - c. Par l'Assemblée nationale seule
3. Un scrutin majoritaire ...
 - a. Permet d'assurer une représentation fidèle du vote des électeurs
 - b. Avantage les grands partis qui arrivent en tête des élections
 - c. Permet plus facilement d'assurer une stabilité gouvernementale
4. Par rapport à un scrutin majoritaire, le scrutin proportionnel ...
 - a. Augmente le nombre de partis représentés au Parlement
 - b. Diminue le nombre de partis représentés au Parlement
 - c. Permet plus facilement d'assurer une stabilité gouvernementale
5. Les partis politiques ...
 - a. Cherchent à influencer le pouvoir
 - b. Cherchent à exercer le pouvoir
 - c. Sont les seuls acteurs politiques en démocratie

2 Les modes de scrutin dans la V^e République

Indiquez pour chacune des élections suivantes, qui servent à désigner les représentants en France, quel mode de scrutin est utilisé : *scrutin majoritaire* • *scrutin proportionnel* • *scrutin mixte* (mélange majoritaire et proportionnel)

Élections	Fonctionnement	Mode de scrutin
Présidentielles	Les deux candidats qui ont obtenu le plus grand nombre de voix au 1 ^{er} tour s'affrontent lors d'un deuxième tour où celui qui obtient la majorité absolue est élu.	
Législatives	Les candidats qui ont obtenu les votes d'au moins 12,5 % des inscrits sont qualifiés pour le second tour où le candidat qui obtient la majorité des voix est élu.	
Européennes	Les listes de candidats qui ont obtenu plus de 5 % des suffrages obtiennent un nombre d'élus proportionnel à leur nombre de voix.	
Municipales	Les listes qui ont obtenu au moins 10 % des voix peuvent se maintenir au second tour. La liste qui obtient alors la majorité des voix obtient 50 % des sièges, les 50 % de sièges restants étant attribués proportionnellement au résultat de chaque liste.	
Régionales	Les listes qui ont obtenu au moins 10 % des voix peuvent se maintenir au second tour. La liste qui obtient alors la majorité des voix obtient 25 % des sièges, les 75 % de sièges restants étant attribués proportionnellement au résultat de chaque liste.	


3 Les organisations politiques

Complétez le texte suivant avec les termes : *associations* • *partis politiques* • *société civile organisée* • *syndicats* • *médias*

Différents acteurs contribuent à la vie politique en démocratie. Si les se caractérisent par leur volonté d'accéder au pouvoir en organisant la compétition politique et la mobilisation électorale, d'autres organisations vont jouer un rôle. La regroupe ainsi tous les acteurs collectifs qui vont chercher à influencer le pouvoir et ses décisions pour défendre des intérêts ou une cause : c'est le cas des et des Les enfin participent à la démocratie en animant le débat politique et en jouant un rôle de contre-pouvoir.

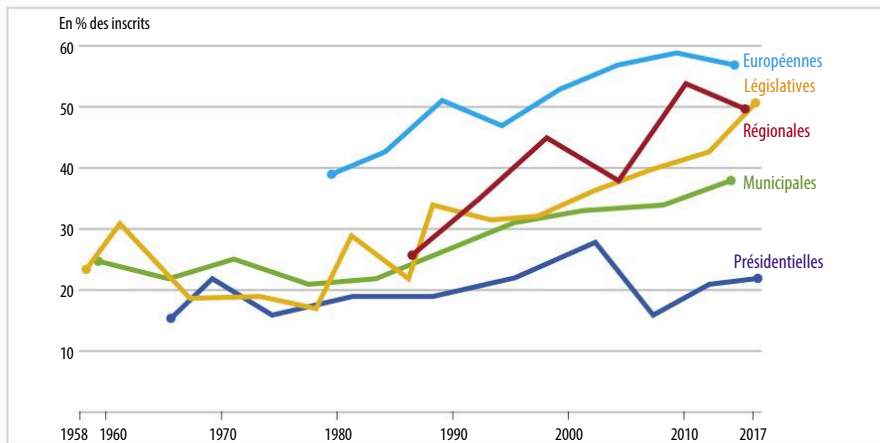


UTILISEZ LES STATISTIQUES



1 L'évolution de l'abstention

Objectifs de savoir-faire ➔ Fiche outils n° 8 Lire et analyser un graphique chronologique

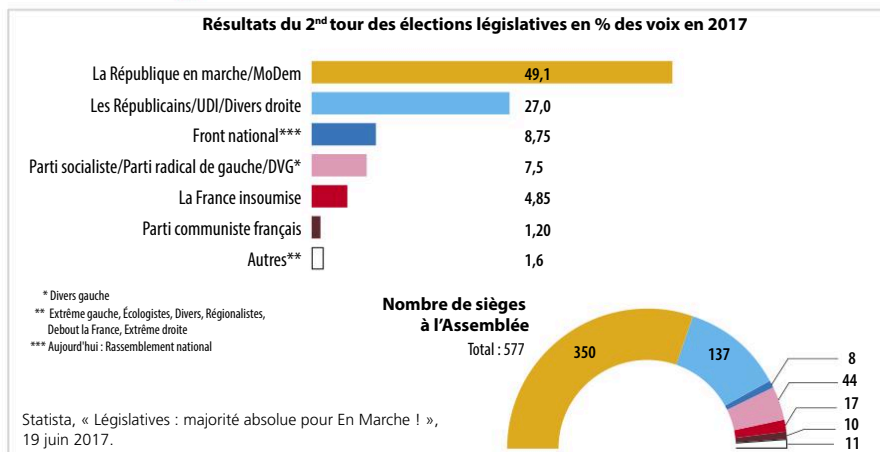


Vincent Tiberj, « Le vote décentré ? Renouvellement générationnel et rapport à la participation électorale en France », *Revue française de science politique*, vol. 68, 2018.

1. Rédigez une phrase présentant la signification précise des données pour l'année 2017.
2. Comment l'abstention a-t-elle évolué depuis 1958 ? Distinguez deux grandes périodes dans cette évolution.
3. L'évolution de l'abstention a-t-elle été la même pour toutes les élections ?

2 Le résultat des élections législatives en 2017

Objectifs de savoir-faire ➔ Fiche outils n° 1 Calculer et interpréter une proportion
➔ Fiche outils n° 7 Lire et analyser un graphique de répartition



1. Calculez l'écart entre le pourcentage de voix obtenues par les Républicains et par le Front national.
2. Calculez le pourcentage de sièges obtenus par la République en marche et par le Front national.
3. Pourquoi le pourcentage de sièges obtenus par les différents partis n'est-il pas équivalent au pourcentage de voix obtenues ?