

GEOGRAPHIE



CHAPITRE 6



Sujet : La fragmentation des espaces ruraux montagnards en France

Transposez ce texte en croquis en y prélevant les informations.

Les espaces montagnards représentent 167 000 km², soit 30 % du territoire métropolitain, et comptent environ 8,5 millions d'habitants. Comme sur l'ensemble du territoire, les espaces ruraux montagnards connaissent d'importantes mutations, notamment sous l'effet de l'étalement urbain et de la diversification des activités économiques.

Les espaces montagnards urbanisés ou sous influence des villes sont de loin les plus dynamiques. Les espaces périurbains de Grenoble, Lyon, Genève, Nice, Clermont-Ferrand et Strasbourg connaissent une croissance démographique due à des soldes naturel et migratoire positifs, une population très jeune et une forte croissance de l'emploi tiré par l'essor des activités résidentielles et touristiques, mais également industrielles. Ces espaces sont aussi les mieux desservis à l'échelle nationale par les axes de communication. Ils bénéficient en effet d'une bonne desserte ferroviaire ou autoroutière qui se greffe sur l'axe majeur Paris-Lyon-Marseille qui rejoint ensuite l'Italie via Nice ou l'Espagne. Des axes secondaires permettent de relier Lyon à Grenoble et Genève ou Lyon à Clermont-Ferrand. Les interfaces frontalières avec la Suisse et l'Italie ont favorisé l'installation de néo-ruraux qui recherchent un cadre de vie privilégié non loin des agglomérations.

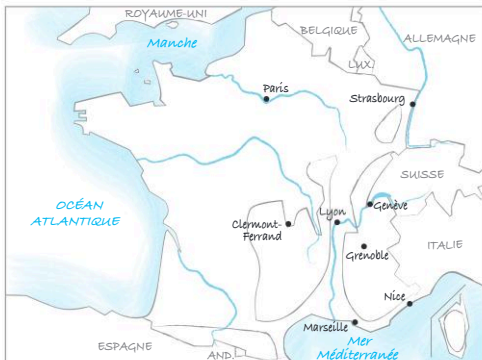
Les espaces montagnards qui maintiennent leur population sont marqués par une multifonctionnalité. Les espaces de moyenne montagne du Jura et du Massif central concentrent des activités agricoles ou industrielles assez dynamiques. Ils bénéficient d'une attractivité migratoire assez élevée, et un niveau d'accès

aux services, aux commerces et aux emplois dans la moyenne de l'ensemble des communes de montagne. Les espaces au nord et au sud de Clermont-Ferrand concentrent une population plus âgée et un déclin des activités agricoles mais les activités résidentielles et touristiques (notamment quelques stations de ski) se développent et témoignent d'une attractivité migratoire assez forte, à l'image de l'est des Vosges. Mais les espaces les plus dynamiques sont concentrés dans les Alpes peu artificialisées et boisées de haute altitude. Bien que faiblement peuplés, ils connaissent une forte attractivité migratoire et une croissance de l'emploi grâce aux activités résidentielles et touristiques (grandes stations de sports d'hiver, parcs nationaux). Ces espaces sont principalement situés dans le nord et à l'est du massif alpin, et, dans une moindre mesure, à l'extrême sud de ce massif.

Les autres espaces montagnards sont marqués par l'enclavement et la rareté des services et des commerces. Ces espaces sont souvent des espaces de haute montagne peu accessibles, à fort taux de chômage dont la population est âgée, principalement dans les Alpes du Sud, en Corse, au sud du Massif central et dans les Pyrénées. L'ouest des Vosges est aussi concerné. Bien qu'une économie résidentielle et touristique s'y développe, elle ne compense pas les pertes d'emplois dans les secteurs agricoles et industriels. La déprise se lit dans les paysages et les politiques publiques peinent à l'enrayer.

D'après « Typologie des montagnes », Observatoire des territoires, 2019.

Titre :



Des espaces montagnards sous l'influence des villes

Des espaces montagnards multifonctionnels

Des espaces montagnards isolés



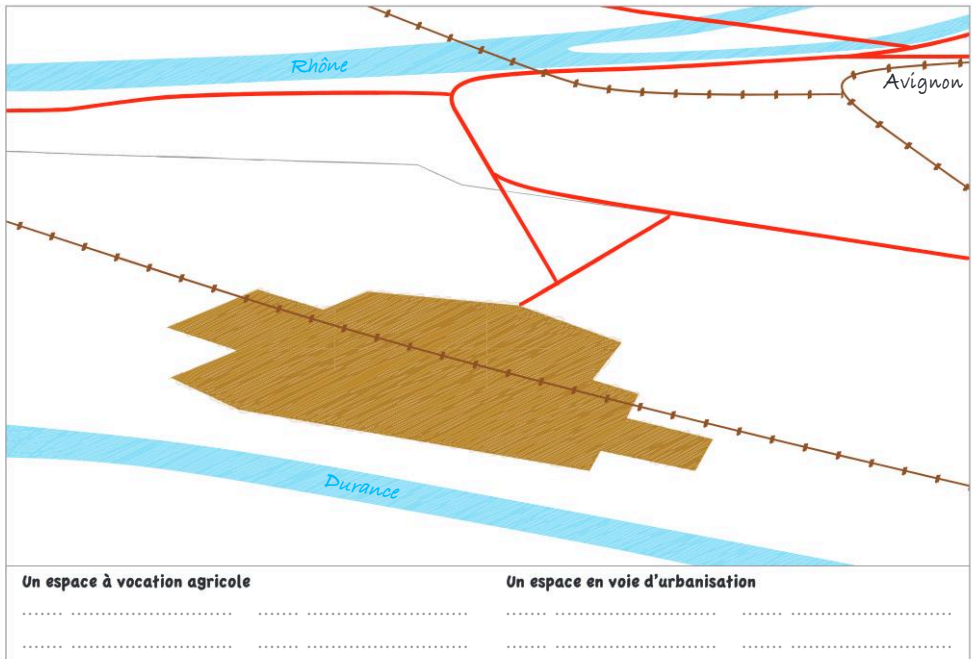
Sujet : Un espace agricole en voie d'urbanisation : Avignon-Confluence

Transposez ce texte en croquis en y prélevant les informations.

- Située au sud-ouest d'Avignon, la gare TGV a été implantée en 2001 dans un espace agricole entre le Rhône et la Durance. Les sections de ces cours d'eau autour de la ville sont classées en zone Natura 2000.
- 5 Les surfaces agricoles sont ici situées dans une zone inondable. On y trouve quelques vergers et pour l'essentiel des surfaces mises en culture. Elles sont composées de petites fermes délimitées par des haies brise-vent. Dans cet espace, déjà traversé par des infrastructures de transport, voie ferrée, pont, route, le projet urbain Avignon-Confluence, doit être construit à partir de 2020, au détriment des surfaces agricoles peu productives compte tenu de leur petite surface.
- 15 Le projet ne suscite pas d'opposition, d'autant qu'il est construit comme un axe de développement urbain et de développement durable alliant innovation dans la construction de l'habitat (énergie durable), préservation de la zone fluviale Natura 2000 valorisant le cadre paysager. Sur une surface de 425 000 m² au total, le projet situé aux abords immédiats de la gare sera composé de logements, de commerces et de bureaux. Ce nouveau quartier sera dédié à l'événementiel, au tourisme d'affaires ou encore à l'industrie créative.
- 25

D'après Avignon.fr, 22 mars 2018.

Titre :



Sujet guidé

Les conflits d'usage dans les espaces ruraux français

À partir du document et de vos connaissances, montrez que l'essor de l'agriculture biologique témoigne des transformations agricoles en France mais qu'il est peu compatible avec l'étalement urbain. Présentez ensuite d'autres conflits d'usage qui touchent les espaces périurbains en France.



L'agriculture biologique en zone périurbaine vue par Gab, dessinateur humoriste de presse

Méthode

- **Identifier le document** : auteur, date, source, destinataire.
- **Décrire le dessin de presse** :
 - Repérer les éléments de construction : décor, couleurs, personnages ;
 - Repérer les informations contenues dans le texte : titre, dialogue, ton employé ;
 - Identifier les exagérations dans le dessin.
- **Interpréter le dessin de presse** :
 - Utiliser les connaissances extraites du cours pour expliquer le dessin ;
 - Interpréter l'intention de l'auteur : illustrer, provoquer, dénoncer ;
 - Organiser les informations en fonction de la consigne.

1 Complétez la colonne « décrire le dessin de presse » dans le tableau suivant.

2 Complétez la colonne « Interpréter le dessin de presse » en sélectionnant les arguments qui vous semblent pertinents et en les complétant.

L'agriculture biologique est devenue une pratique majoritaire en France. L'agriculture biologique montre le développement de pratiques agricoles plus durables qui répondent aux attentes des consommateurs, comme les circuits courts. Ces pratiques agricoles restent minoritaires face à l'agriculture productiviste. Les urbains sont peu respectueux de l'agriculture biologique. Les choix environnementaux de l'agriculture biologique sont plus difficiles à mettre en place en zone périurbaine à cause de la pollution urbaine.


	Décrire le dessin de presse	Interpréter le dessin de presse	Limites du dessin de presse pour traiter le sujet
Les mutations des systèmes agricoles			Quelles sont les autres formes de l'étalement urbain qui menacent les terres agricoles ?
Les conflits sur l'usage des terres en zone périurbaine			Quels sont les autres conflits d'usage dans les espaces périurbains ?

3 Rédigez les réponses aux questions posées par la consigne.



Sujet : Des espaces ruraux français de plus en plus multifonctionnels

Expliquez comment ces documents présentent la cohabitation entre l'agriculture et les autres activités dans les campagnes françaises à l'aide d'exemples précis issus de vos connaissances. Pourquoi cela peut-il entraîner des conflits d'usage ?



Comment se manifeste la volonté de protéger la biodiversité des espaces ruraux ?

Comment expliquer la pression urbaine sur les espaces ruraux ?

Montrez que cette représentation de l'agriculture sous pression est à nuancer à l'échelle du territoire français.

Pourquoi les grands aménagements de transport fragmentent-ils les espaces ruraux ?

1 Des terres agricoles sous pression
Dessin de presse réalisé par Philippe Tastet

2 L'essor du tourisme rural

On assiste dans les espaces ruraux au développement des activités du tourisme et de loisirs, qui prennent appui sur le caractère agricole de ces territoires et participent à la définition d'une nouvelle ruralité. Les espaces ruraux apparaissent de plus en plus comme des espaces touristiques en développement avec l'avènement du tourisme vert. Le développement de cette pratique est lié à la situation des territoires ruraux en marge des circuits touristiques classiques, ce qui les rend susceptibles d'offrir une forme « d'authenticité » et de « nature » aux voyageurs citadins. Le tourisme vert se développe ainsi avec des aménagements *a minima* permettant d'accueillir les touristes (routes, chambre d'hôtes) mais restant discrets, puisque c'est l'absence même de ces aménagements qui est un

facteur d'attractivité. La ruralité devient alors un élément de marketing territorial pour les collectivités locales concernées ainsi que pour les acteurs du tourisme. Certains sites peuvent être mis en valeur par une double logique d'aménagement de parcours touristiques et de protection du patrimoine « naturel » comme c'est le cas pour les grottes d'Ardèche (notamment la grotte Chauvet) qui font l'objet de parcours de visite aménagés à l'intérieur des sites mais aussi entre les sites, ainsi que d'opérations de protection des milieux. Les territoires ultramarins offrent également – outre les séjours balnéaires – de plus en plus de possibilités de tourisme vert.

E. Libourel,
Géographie de la France, 2017.



Méthode

Rédiger la conclusion de la réponse d'une question problématisée

Sujet guidé : Comment l'agriculture continue-t-elle à structurer des espaces ruraux de plus en plus multifonctionnels en France ?

Méthode

- **La conclusion doit être rédigée avec soin car elle présente l'aboutissement de votre réflexion.**
 - apporter une réponse globale à la question problématisée ;
 - rappeler brièvement les grands arguments qui ont permis cette réponse globale ;
 - limiter la conclusion à une ou deux phrases.

1 À l'aide de votre cours, complétez le tableau suivant à l'aide d'exemples prélevés dans le chapitre.

Paragraphes	Idées générales/arguments	Exemples
1. Une agriculture qui façonne les espaces ruraux	a) la place de l'agriculture dans les paysages ruraux b) la diversité des systèmes agricoles c) mais une agriculture en crise	– 50 % des sols ont un usage agricole –
2. Une agriculture qui cohabite avec d'autres fonctions	a) fonction résidentielle b) fonctions productives : tourisme, industrie, production d'énergie c) des conflits d'usage	...
3. Une agriculture encore importante dans le développement rural	a) des formes de valorisation locale des produits agricoles b) une pluriactivité des agriculteurs c) un rôle d'entretien du paysage	...

2 À l'aide de la méthode, choisissez la fin de la conclusion qui correspond le mieux au sujet et justifiez votre choix.

L'agriculture reste une activité structurante dans les campagnes françaises même si d'autres fonctions rurales se développent.

Proposition 1

En effet, malgré des difficultés économiques, l'agriculture façonne toujours les paysages ruraux tout en cohabitant avec les fonctions résidentielles ou productives, à la fois source de conflits d'usage et opportunités de développement pour les agriculteurs (vente locale, agritourisme).

Proposition 2

En effet, les agriculteurs se tournent de plus en plus vers la pluriactivité et entretiennent le paysage alors que les fonctions résidentielles ou productives se développent (tourisme, industrie, production d'énergie).

3 Rédigez l'ensemble de la réponse organisée.

S'entraîner à répondre à une question problématisée

Sujet : Comment la fragmentation des espaces ruraux français renforce-t-elle les contrastes entre les territoires ?

Plan suggéré

- 1) Des espaces ruraux recomposés sous l'influence des villes et des mutations économiques
- 2) Un inégal renouveau des populations rurales
- 3) Des enjeux d'aménagement contrastés selon les espaces ruraux

4 Rédigez l'ensemble de la réponse grâce à la méthode p. 18.