



# SES



## CHAPITRE 6



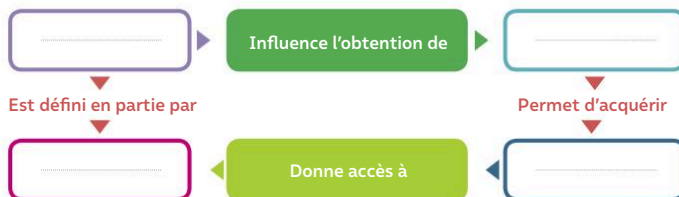
# TESTEZ VOS CONNAISSANCES !



## 1 Les inégalités d'accès au capital humain

Complétez le schéma avec les termes suivants :

**diplôme • milieu social • emplois plus ou moins qualifiés • capital humain**



## 2 Quel niveau de diplôme et de qualification pour ces emplois ?

Quel niveau de diplôme minimum permet d'accéder aux professions suivantes aujourd'hui ?

	Bac ou moins	Bac +2 ou +3	Bac +5 ou plus
Avocat, avocate			
Infirmier, infirmière			
Caissier, caissière de magasin			
Agent, agente de surveillance			
Gérant, gérante de supermarché			
Comptable			
Enseignant, enseignante au lycée			

## 3 Les diplômes protègent-ils du chômage ?

Choisir la ou les bonnes réponses.

### 1. Obtenir un diplôme plus élevé ...

- a. Augmente le risque de se retrouver au chômage.
- b. Diminue le risque de se retrouver au chômage.
- c. N'a aucun effet sur le risque de se retrouver au chômage.

### 2. Le capital humain correspond à ...

- a. La population présente sur le territoire d'un pays.
- b. L'ensemble des salaires versés par une entreprise.
- c. L'ensemble des connaissances et compétences qui permettent d'améliorer la productivité des salariés.

### 3. On peut dire que le niveau d'études et le diplôme obtenu par les individus est influencé par le milieu social car ...


- a. Tout le monde a les mêmes chances d'obtenir le Bac aujourd'hui.
- b. 90 % des enfants de cadres obtiennent le Bac, contre seulement 50 % des enfants d'ouvriers.
- c. Les enfants d'ouvriers ont plus de chances d'obtenir un diplôme que les enfants de cadres.

### 4. Les inégalités de réussite scolaire s'expliquent par ...

- a. Les efforts et le travail plus importants que font les enfants les plus brillants.
- b. Les ressources financières des parents.
- c. Les ressources et pratiques culturelles (livres, fréquentation des musées, ...) selon les milieux sociaux des élèves.



# UTILISEZ LES STATISTIQUES



## 1 Salaires moyen et médian

Objectifs de savoir-faire Lire et interpréter une moyenne et une médiane ☺ Fiche outils n° 5

1. Imaginons un groupe de 11 personnes composé de femmes (F) et d'hommes (H) qui gagnent les salaires suivants :

H	F	H	F	F	H	F	H	H	F	H
1 100 €	1 200 €	2 200 €	4 000 €	1 600 €	12 000 €	1 900 €	1 500 €	2 100 €	1 300 €	1 600 €



- Calculez le salaire moyen puis le salaire médian de ce groupe.
- Imaginons que l'homme qui gagne 12 000 € sorte de ce groupe. Calculez le nouveau salaire moyen et le nouveau salaire médian de ce groupe.
- Que pouvez-vous en déduire sur les avantages et les inconvénients d'utiliser le salaire moyen et le salaire médian ?

### Le salaire mensuel net moyen et le salaire médian net en 2014

	Revenu salarial moyen par mois (en €)	Revenu salarial médian par mois (en €)
Ensemble	1 722,5	1 543,3
Cadres	3 372,7	2 917,5
Ouvriers	1 273,3	1 371,7

INSEE, « Emploi, chômage, revenus du travail », 2017.

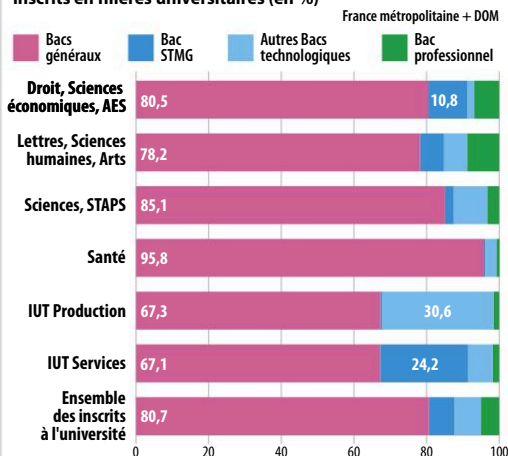


- Rédigez une phrase présentant la signification précise de chacune des données entourées.
- Comparez, à l'aide d'un indicateur statistique, le salaire mensuel net moyen des cadres et celui des ouvriers en 2014.
- Comment peut-on expliquer que le revenu salarial médian soit inférieur au revenu salarial moyen pour les cadres et pour l'ensemble des salariés ?

## 2 Quel est le Bac des nouveaux inscrits à l'université ?

Objectifs de savoir-faire Calculer et interpréter une proportion ☺ Fiche outils n° 1  
Lire et analyser un graphique de répartition ☺ Fiche outils n° 7

### Origine scolaire des nouveaux bacheliers 2016 inscrits en filières universitaires (en %)



Source : MENESR-DGESIP/DGRI-SIES.

- Observez le graphique et indiquez si les phrases suivantes sont correctes. Dans le cas contraire, corrigez les affirmations erronées.
  - En 2016, 95,8 % des bacheliers généraux se sont inscrits en Santé à l'université.
  - En 2016, 80,5 % des bacheliers qui se sont inscrits en Droit, Sciences économiques, AES avaient un bac général.
  - En 2016, 91,3 % des bacheliers qui se sont inscrits en IUT services avaient un bac STMG.
- De quel Bac les étudiants en Droit, Sciences économiques, AES sont-ils majoritairement issus ?
- Dans quelles formations les bacheliers professionnels sont-ils les plus représentés ?