


GEOGRAPHIE



CHAPITRE 6



Sujet guidé : L'inégal dynamisme démographique des régions françaises

Transposez ce texte en croquis en y prélevant les informations.

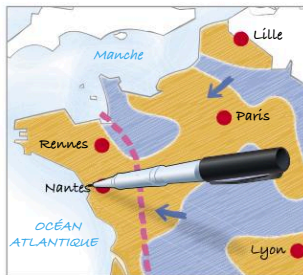
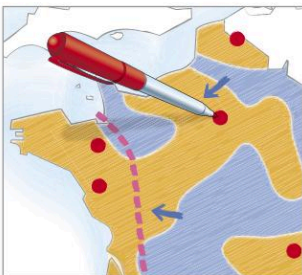
En France, les régions s'opposent selon leur dynamisme démographique. En effet, la population augmente régulièrement du point de vue naturel ou migratoire sur une majorité du territoire, et notamment sur les façades atlantique et méditerranéenne. Les territoires perdant des habitants sont limités à une diagonale partant des Ardennes jusqu'au sud du Massif central. Les explications de cette évolution contrastée sont multiples. D'abord, la croissance démographique profite aux métropoles qui attirent

les activités et donc les hommes. Le cadre attractif des climats et littoraux méditerranéen et atlantique est également un facteur d'attractivité pour les populations, tout comme peuvent l'être les Alpes. Cela entraîne des flux internes de population entre régions moins dynamiques et régions attractives. Les flux migratoires étrangers sont plus diffus, même si les territoires ultramarins et notamment Mayotte constituent une porte d'entrée privilégiée sur le territoire.

Méthode

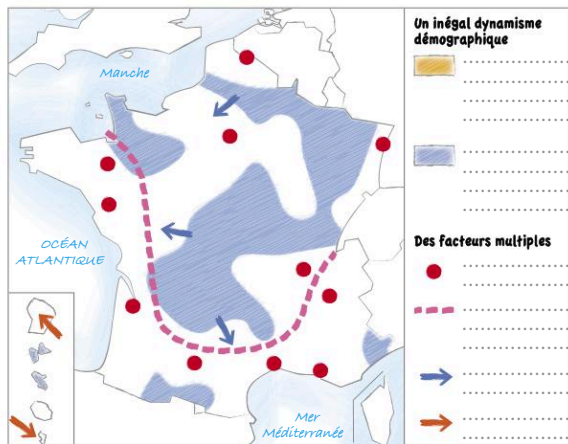
Un croquis doit être réalisé par étapes :


- les aplats de couleurs doivent d'abord être réalisés avec des crayons de couleur ;
- les figurés linéaires et les hachures doivent ensuite être dessinés avec des feutres fins ;
- les figurés ponctuels doivent être reportés avec des feutres fins et, si besoin, avec un normographe ;
- la nomenclature doit être proprement rédigée au feutre fin (jamais au stylo à bille) ;
- le titre, qui figure toujours en haut du croquis, ne doit pas être oublié.



- 1 En vous appuyant sur la méthode p. 334, prélevez les informations et reportez-les dans la légende du croquis.
- 2 Complétez le croquis suivant en respectant les étapes proposées en méthode.
- 3 Dans la liste suivante, choisissez le titre qui vous semble le plus adapté pour le croquis ci-dessus. Justifiez votre choix.
 - La France : des dynamiques démographiques contrastées
 - Les inégalités dans le dynamisme démographique en France
 - Les régions dynamiques et les régions moins dynamiques du point de vue démographique en France
 - Une démographie française inégalement dynamique

Titre :





Méthode

Analyser une carte par anamorphose

Sujet guidé

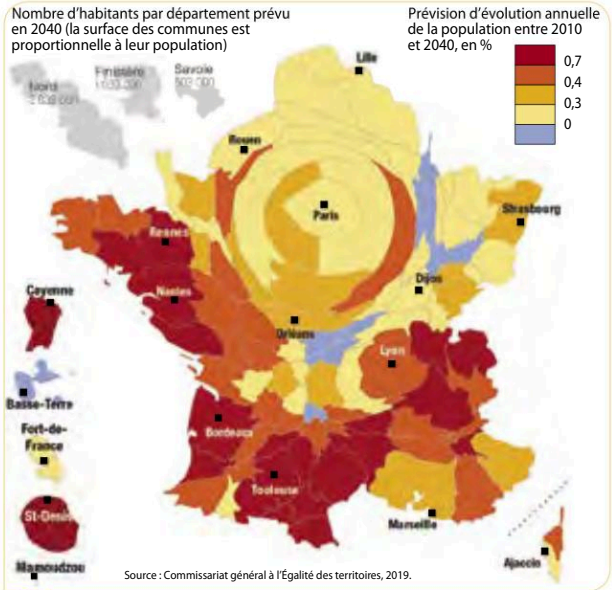
Les dynamiques démographiques en France à l'horizon 2040

« D'ici à 2040, la population française se concentrera davantage à l'Ouest », titrait le journal *Les Échos* le 8 décembre 2010. Nuancez cette affirmation et portez un regard critique sur la représentation cartographique.

Méthode

La carte par anamorphose met en valeur les données brutes. Elle représente un espace non pas selon sa forme géographique mais en fonction de la valeur de la donnée cartographiée. Ainsi, ici, les départements les plus gros sont les plus peuplés, les plus petits sont les moins peuplés.

- Repérer les informations liées à l'anamorphose : espaces surdimensionnés par rapport à leur taille géographique (ici, Île-de-France); espaces sous-dimensionnés (ici, départements du Massif central et de la Corse);
- Repérer les autres informations (ici, prévision d'évolution de la population);
- Interpréter la carte en utilisant les connaissances extraites du cours.



Prévision d'évolution de la population entre 2010 et 2040

- 1 Présentez le document en utilisant la méthode pour expliquer la construction de la carte par anamorphose.
- 2 Complétez le tableau suivant.

	Prélever les informations	Mobiliser des connaissances
Un territoire inégalement peuplé en 2040	– L'Île-de-France sera toujours la région la plus peuplée en 2040 –
Une évolution contrastée des territoires entre 2010 et 2040

- 3 Rédigez un paragraphe d'analyse de la carte intégrant les arguments suivants et en les complétant avec des données chiffrées.

La population de l'Île-de-France restera majoritaire en France comme le montre la taille de ses départements sur la carte / les façades atlantique et méditerranéenne continueront à être attractives comme le montrent les couleurs rouge foncé / Toulouse et Lyon resteront des métropoles très dynamiques / la Corse verra sa population stagner dans sa partie sud / la densité des départements du centre de la France est plus faible comme le montrent leurs tailles sur la carte.

- 4 Le Commissariat général à l'égalité des territoires œuvre pour l'aménagement du territoire français et la lutte contre les inégalités. Pourquoi la prospective (prévision des évolutions démographiques, économiques... pour préparer le futur) est-elle utilisée par le CGET ?



Méthode

Analyser une série statistique

Sujet guidé

Les inégalités socio-économiques en France

Montrez à l'aide du document que les inégalités sont fortes en France et qu'elles ont tendance à s'accroître. Puis, en changeant d'échelle, listez les inégalités que ce document n'illustre pas.

	IDH en 2017	IDH en 2000	Taux de chômage	Part des bénéficiaires du RSA	Part de diplômés post-bac dans les + de 15 ans
France métropolitaine	0,897	0,848	9,1 %	5,1 %	28 %
Guyane	0,782	0,759	22 %	23 %	16 %
Île-de-France	0,947	0,888	8,7 %	5,1 %	40 %
Martinique	0,854	0,817	18 %	17 %	21 %
Nord	0,873 ¹	0,818	12,3 %	9 %	26 %
La Réunion	0,825	0,788	23 %	25 %	18 %
Rhône	0,911 ¹	0,856	8,3 %	5 %	37 %
Vendée	0,894 ¹	0,841	7,1 %	2 %	20 %

Indicateurs socio-économiques

1. Valeur régionale (Hauts-de-France, AURA, Pays de la Loire).

Source : Insee, 2019.

Méthode

- **Identifier le document** : auteur, date, provenance des chiffres (Banque mondiale, Insee...).
- **Décrire la série statistique** :
 - Identifier les indicateurs présentés et leur nature : valeur brute, indice, pourcentage...;
 - Repérer les tendances à la fois en ligne et en colonne, les valeurs les plus hautes, les plus basses et les moyennes;
 - Mesurer ces tendances par des calculs simples (addition, soustraction, moyenne, multiplication, taux de variation...).
- **Interpréter le tableau** :
 - Utiliser les connaissances extraites du cours pour expliquer les grandes tendances;
 - Organiser les informations en fonction de l'organisation de la consigne.

1 Qu'est-ce que l'Insee ? Quel est son rôle ?

2 Dans la liste d'informations suivantes, sélectionnez celles qui traduisent convenablement la série statistique.

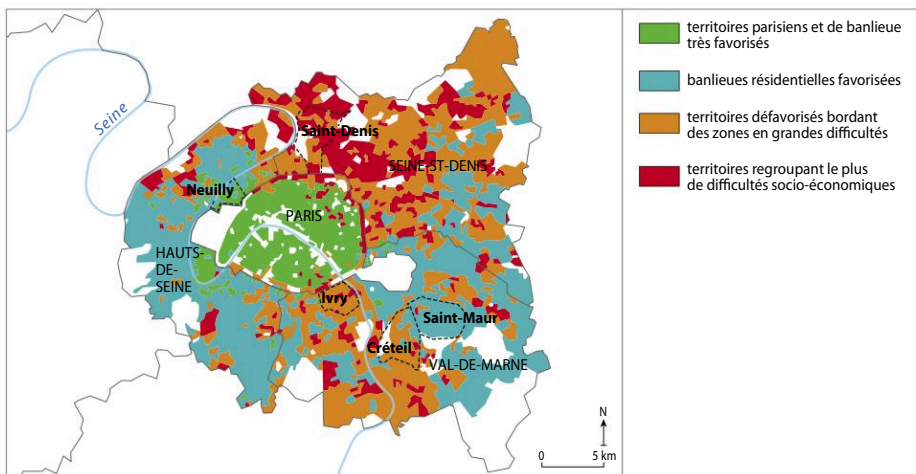
- les territoires ultramarins cumulent plus de difficultés que les régions métropolitaines;
- la part des diplômés dans la population explique que la Vendée est moins touchée par la pauvreté;
- les inégalités entre régions métropolitaines sont importantes;
- l'IDH a davantage progressé dans les territoires ultramarins qu'en France métropolitaine;
- la région où l'IDH a le moins progressé depuis 2000 est le Nord.

3 Complétez le tableau suivant.

	Prélever des informations dans le document	Mobiliser des connaissances
Des inégalités fortes entre régions françaises		
Des inégalités qui se creusent		
Des inégalités qui n'apparaissent pas dans le document		

Sujet : Les inégalités socio-économiques dans la métropole parisienne

Montrez, à l'aide de la carte de la métropole parisienne et de la série statistique, que les inégalités sont importantes et révèlent une forte fragmentation socio-spatiale.



	Territoires parisiens très favorisés	Territoires résidentiel favorisés	Territoires défavorisés	Territoires très défavorisés
Part des diplômés du supérieur	62 %	47 %	29 %	18 %
Taux de chômage des 15-24 ans	18 %	20 %	29 %	40 %
Part de la population vivant en HLM	14 %	11 %	34 %	66 %
Revenu médian par an par ménage	32 280 €	29 880 €	19 027 €	12 460 €
Part des immigrés	19 %	13 %	23 %	33 %

Source : Cnesco, Éducation et territoires, octobre 2018.



Indicateurs socio-économiques de la métropole parisienne

Pour organiser les informations, distinguez :

- les marqueurs qui contribuent aux inégalités socio-économiques ;
- Paris concentre une population plutôt favorisée malgré quelques poches de pauvreté ;
- les périphéries opposent territoires favorisés et défavorisés.